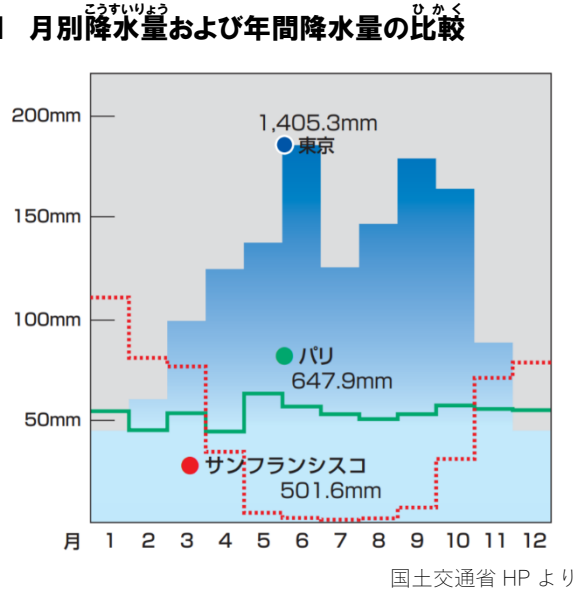


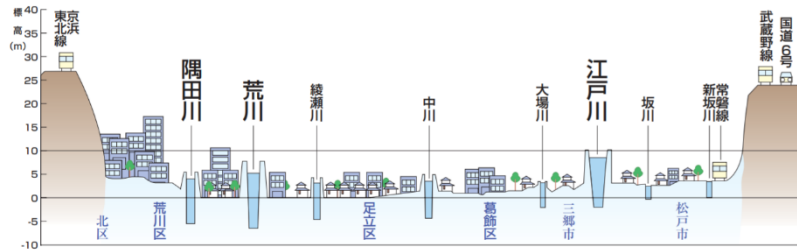
次の、**資料1**・**資料2**をもとに、あとの【問題】に答えましょう。

資料1 月別降水量および年間降水量の比較

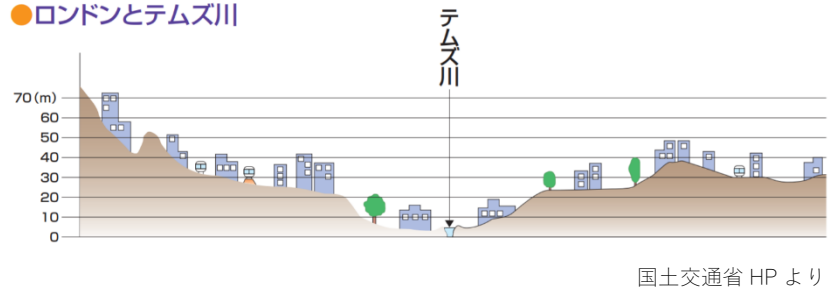


資料2 東京とロンドンの、市街地と川の位置関係

●東京と江戸川・荒川・隅田川



●ロンドンとテムズ川



【問題】

東京は外国の都市と比較して、豪雨時に起こる川の※氾濫などの水害への対策がより重要であると考えられます。その理由を、**資料1**と**資料2**から読み取れる内容をふまえて書きましょう。

※氾濫：川の水があふれ出ること。洪水になること。