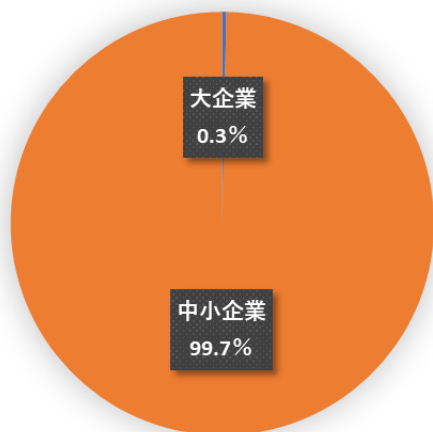
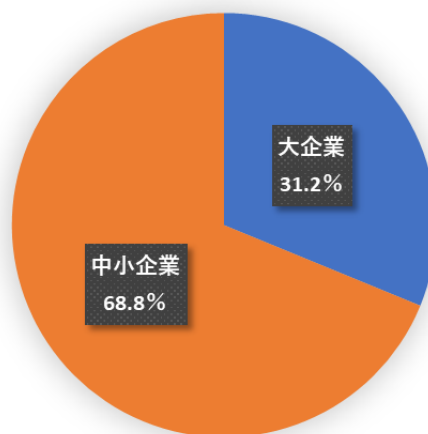
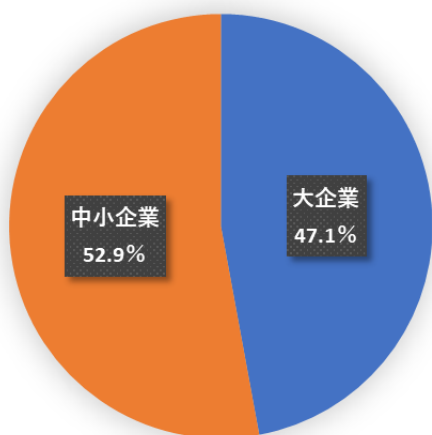


次の資料は、日本の※<sup>1</sup>大企業と※<sup>2</sup>中小企業の各項目における割合です。  
資料を見てあとの【問題】に答えましょう。

資料1 企業数(2015年)



資料2 従業員数(2015年)

資料3 ※<sup>3</sup>付加価値額(2016年)

※<sup>1</sup>大企業：従業員の数などが基準以上の企業。  
 ※<sup>2</sup>中小企業：従業員の数などが基準以下の企業。  
 ※<sup>3</sup>付加価値額：利益のこと。

中小企業白書 2020 より

## 【問題】

資料3から読み取れる日本の大企業の特徴を、資料1と資料2の内容をふまえて書きましょう。